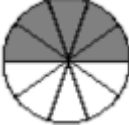
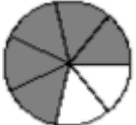

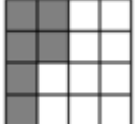





Nombre: _____ E.A: _____ Fecha: _____

Piensa, analiza y resuelve las siguientes situaciones. Escríbelo en tu cuaderno y lo desarrolla por puntos. 1pt. c/u

| I) Redondea o aproxima a las cifras significativas que se le pide | |
|---|--|
| 1) A las unidades a) 1.8 ≈ b) 3.7 ≈ c) 4.3 ≈ d) 6.1 ≈ e) 5.5 ≈ | 2) A una cifra significativa después del punto a) 1.84 ≈ b) 4.33 ≈ c) 3.76 ≈ d) 6.15 ≈ e) 7.54 ≈ |
| 3) A dos cifras significativas después del punto a) 6.518 ≈ b) 4.337 ≈ c) 5.813 ≈ d) 7.719 ≈ e) 8.971 ≈ | 4) A tres cifras significativas después del punto a) 9.4434 ≈ b) 7.4582 ≈ c) 64.3124 ≈ d) 124.2267 ≈ e) 735.9443 ≈ |
| 5) A cuatro cifras significativas después del punto a) 0.23675 ≈ b) 0.12464 ≈ c) 97.44347 ≈ d) 86.71635 ≈ e) 986.85544 ≈ | 6) Representa como fracción los gráficos siguientes:  = |
|  = |  = |
|  = |  = |